

# 令和7年度入学者選抜試験

## 総合型選抜問題

### 実 技 (120 分)

(ビジュアルデザイン学科)

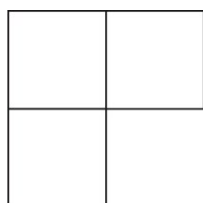
#### 注 意

- 1 試験開始の合図があるまで、この問題冊子の中を見てはいけません。
- 2 問題は、1 ページにあります。
- 3 ケントボードの裏には受験番号欄と氏名欄があるので、監督者の指示に従って、それぞれ正しく記入しなさい。
- 4 試験中に問題冊子の印刷不鮮明、ページの落丁・乱丁、ケントボードの汚れ・破損等に気付いた場合は、手を挙げて監督者に知らせなさい。
- 5 問題冊子の余白等は適宜メモ、下書きに使用してかまいませんが、それ以外の用途に問題冊子を使用してはいけません。
- 6 試験終了後、問題冊子は持ち帰りなさい。

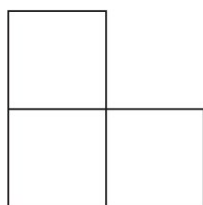
## 問題

「一辺の長さが80mmの立方体（素材は石膏とする）を4個使用し、<sup>こう</sup>図1のように組み合わせた立体」、「赤色のトマトの実（高さ60mm、直径90mm）」を各1点ずつ、計2点を想定し、すべて机の上に置かれているよう構成し、描写（鉛筆デッサン）しなさい。

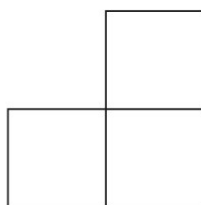
なお、立体は正面と右側面が見えるように配置すること。



平面図



正面図



右側面図

図1

### 注意事項

1. 出題内容に関する質問は受け付けない。
2. 鉛筆や問題冊子などを定規として使用してはならない。
3. ケントボードは、裏面に受験番号欄と氏名欄がくるようにして用いること。